



UNIVERSIDADE FEDERAL DA GRANDE DOURADOS
Cálculo de Várias Variáveis — Avaliação P2
Prof. Adriano Barbosa

Matemática

30/08/2023

1	
2	
3	
4	
5	
Nota	

Aluno(a):

Todas as respostas devem ser justificadas.

1. Determine o volume do sólido definido abaixo da superfície $f(x, y) = y^3 e^{2x}$ e acima do retângulo $R = [0, 2] \times [0, 4]$.

2. Calcule a integral $\int_0^4 \int_{\sqrt{x}}^2 \frac{1}{y^3 + 1} dy dx$ invertendo a ordem de integração.

3. Calcule a integral $\int_0^1 \int_y^{\sqrt{2-y^2}} x - y dx dy$.

4. Calcule a integral $\iiint_E \sqrt{x^2 + y^2} dV$, onde E é a região que está dentro do cilindro $x^2 + y^2 = 9$ e entre os planos $z = -1$ e $z = 3$.

5. Descreva o sólido cujo volume é dado pela integral $\int_0^{\pi/6} \int_0^{\pi/2} \int_0^3 \rho^2 \sin \phi d\rho d\theta d\phi$ e calcule seu volume.

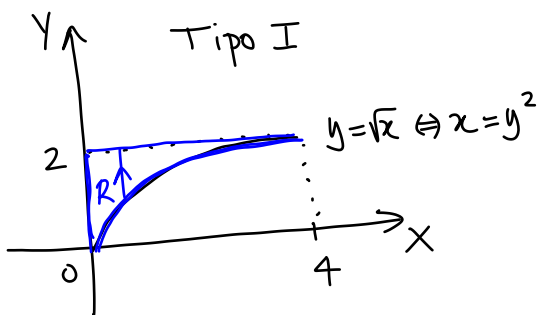
Boa Prova!

Avaliação P2

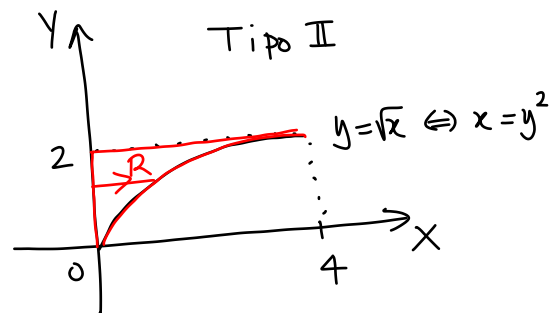
- ① Como $y \in [0, 4]$, então $y^3 \geq 0$. Além disso, $e^{2x} > 0, \forall x \in \mathbb{R}$. Logo, $f(x, y) = y^3 \cdot e^{2x} \geq 0$ em R e o volume do sólido é igual ao valor da integral

$$\begin{aligned} \iint_R y^3 \cdot e^{2x} dA &= \int_0^2 \int_0^4 y^3 \cdot e^{2x} dy dx = \int_0^2 e^{2x} dx \cdot \int_0^4 y^3 dy \\ &= \left. \frac{e^{2x}}{2} \right|_0^2 \cdot \left. \frac{y^4}{4} \right|_0^4 = \left(\frac{e^4}{2} - \frac{e^0}{2} \right) \left(\frac{256}{4} - \frac{0}{4} \right) = \left(\frac{e^4 - 1}{2} \right) \cdot 64 = 32(e^4 - 1) \end{aligned}$$

- ② Descrevendo a região de integração como Tipo II:



$$R = \{(x, y) \mid 0 \leq x \leq 4, \sqrt{x} \leq y \leq 2\}$$



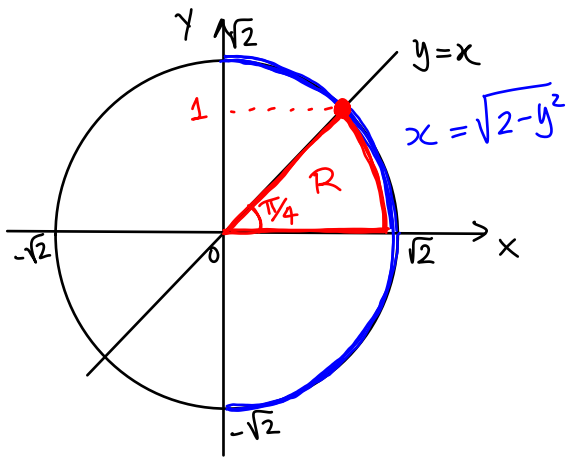
$$R = \{(x, y) \mid 0 \leq y \leq 2, 0 \leq x \leq y^2\}$$

Logo

$$\begin{aligned} \int_0^4 \int_{\sqrt{x}}^2 \frac{1}{y^3+1} dy dx &= \int_0^2 \int_0^{y^2} \frac{1}{y^3+1} dx dy = \int_0^2 \frac{1}{y^3+1} \left(\int_0^{y^2} dx \right) dy \\ &= \int_0^2 \frac{1}{y^3+1} \left(x \Big|_0^{y^2} \right) dy = \int_0^2 \frac{y^2}{y^3+1} dy = \int_1^9 \frac{1}{u} \cdot \frac{1}{3} du = \frac{1}{3} \int_1^9 \frac{1}{u} du \\ &= \frac{1}{3} \left(\ln u \Big|_1^9 \right) = \frac{1}{3} (\ln 9 - \ln 1) = \frac{\ln 9}{3}. \end{aligned}$$

$(u = y^3 + 1 \Rightarrow du = 3y^2 dy)$
 $y = 0 \Rightarrow u = 1$ e $y = 2 \Rightarrow u = 9$

$$\textcircled{3} \quad R = \{(x, y) \mid 0 \leq y \leq 1, y \leq x \leq \sqrt{2-y^2}\}$$



$$x = \sqrt{2-y^2} \Rightarrow x^2 = 2-y^2$$

$$\Rightarrow x^2 + y^2 = 2 \quad (\text{circ. raio } \sqrt{2})$$

Interação:

$$y = \sqrt{2-y^2} \Rightarrow y^2 = 2-y^2 \Rightarrow 2y^2 = 2 \\ \Rightarrow y = \pm 1$$

Em coord. polares, $R = \{(r, \theta) \mid 0 \leq r \leq \sqrt{2}, 0 \leq \theta \leq \frac{\pi}{4}\}$. Logo,

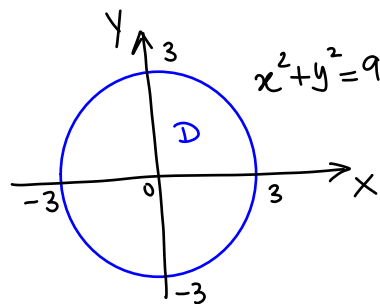
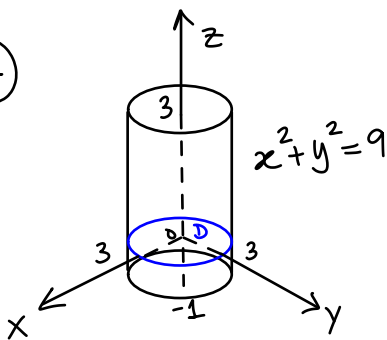
$$\int_0^{\sqrt{2}} \int_y^{\sqrt{2-y^2}} (x-y) \, dx \, dy = \int_0^{\sqrt{2}} \int_0^{\pi/4} (r \cos \theta - r \sin \theta) r \, d\theta \, dr$$

$$= \int_0^{\sqrt{2}} \int_0^{\pi/4} r^2 (\cos \theta - \sin \theta) \, d\theta \, dr = \int_0^{\sqrt{2}} r^2 \, dr \cdot \int_0^{\pi/4} \cos \theta - \sin \theta \, d\theta$$

$$= \left(\frac{r^3}{3} \Big|_0^{\sqrt{2}} \right) \cdot \left(\sin \theta + \cos \theta \Big|_0^{\pi/4} \right) = \left[\frac{(\sqrt{2})^3}{3} - 0 \right] \cdot \left(\sin \frac{\pi}{4} + \cos \frac{\pi}{4} - \sin 0 - \cos 0 \right)$$

$$= \frac{2\sqrt{2}}{3} \left(\frac{\sqrt{2}}{2} + \frac{\sqrt{2}}{2} - 0 - 1 \right) = \frac{2\sqrt{2}}{3} (\sqrt{2} - 1) = \frac{4 - 2\sqrt{2}}{3}$$

$\textcircled{4}$



$$E = \{(x, y, z) \mid (x, y) \in D, -1 \leq z \leq 3\}$$

$$D = \{(r, \theta) \mid 0 \leq r \leq 3, 0 \leq \theta \leq 2\pi\}$$

$$\Rightarrow E = \{(r, \theta, z) \mid 0 \leq r \leq 3, 0 \leq \theta \leq 2\pi, -1 \leq z \leq 3\}$$

$$\therefore \iiint_E \sqrt{x^2 + y^2} \, dV = \int_0^3 \int_0^{2\pi} \int_{-1}^3 \sqrt{r^2} \cdot r \, dz \, d\theta \, dr$$

$$\int_0^3 \int_0^{2\pi} \int_{-1}^3 \sqrt{r^2} \cdot r \, dz \, d\theta \, dr = \int_0^3 \int_0^{2\pi} \int_{-1}^3 r^2 \, dz \, d\theta \, dr$$

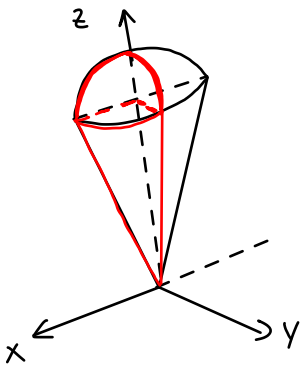
$$= \int_0^3 r^2 \, dr \cdot \int_0^{2\pi} d\theta \cdot \int_{-1}^3 dz = \left(\frac{r^3}{3} \Big|_0^3 \right) \left(\theta \Big|_0^{2\pi} \right) \left(z \Big|_{-1}^3 \right) = \frac{27}{3} \cdot 2\pi \cdot (3+1)$$

$$= 72\pi$$

⑤ A região de integração é

$$E = \left\{ (\rho, \theta, \phi) \mid 0 \leq \rho \leq 3, 0 \leq \theta \leq \frac{\pi}{2}, 0 \leq \phi \leq \frac{\pi}{6} \right\},$$

~~a metade~~ localizada no ~~semi-espaço~~ ^{primeiro octante} ~~$y > 0$~~ da região cônica da esfera de raio 3 de faz ângulo $\frac{\pi}{6}$ com o semi-eixo z positivo e vértice na origem. (um quarto do sorvete)



Como o integrando é $f(x, y, z) = 1$, o valor do integral é igual ao volume do sólido E .

Calculando a integral:

$$\int_0^{\pi/6} \int_0^{\pi/2} \int_0^3 \rho^2 \sin \phi \, d\rho \, d\theta \, d\phi = \int_0^{\pi/6} \sin \phi \, d\phi \cdot \int_0^{\pi/2} d\theta \cdot \int_0^3 \rho^2 \, d\rho$$

$$= \left(-\cos \phi \Big|_0^{\pi/6} \right) \cdot \left(\theta \Big|_0^{\pi/2} \right) \cdot \left(\frac{\rho^3}{3} \Big|_0^3 \right) = \left(-\cos \frac{\pi}{6} + \cos 0 \right) \cdot \frac{\pi}{2} \cdot 9$$

$$= \frac{9\pi}{2} \left(1 - \frac{\sqrt{3}}{2} \right) = \frac{9\pi}{4} (2 - \sqrt{3})$$